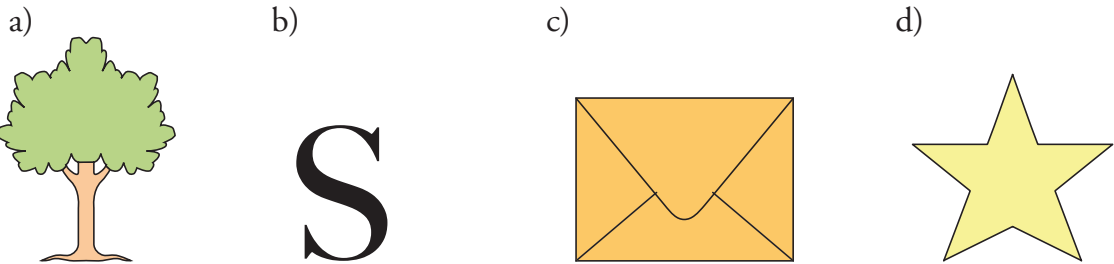


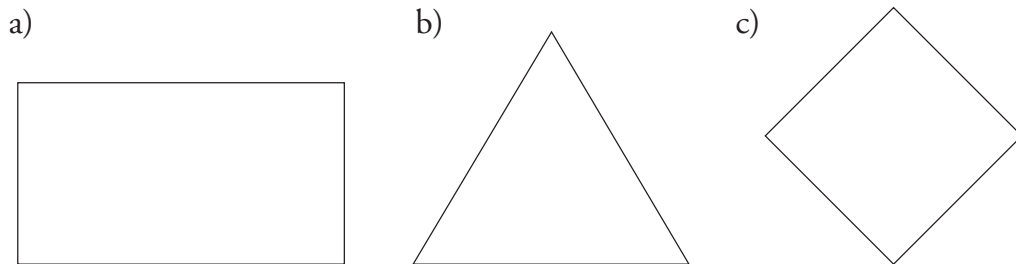
# DIAGNOS GFo1

Namn \_\_\_\_\_ Klass \_\_\_\_\_

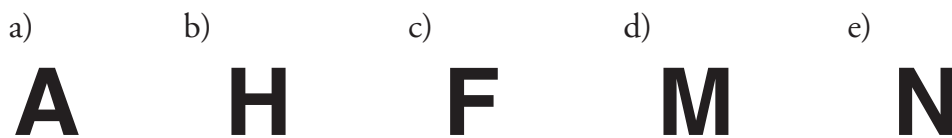
**1** Sätt en ring runt de figurer som är symmetriska.



**2** Rita in alla symmetrilinjer som finns i dessa figurer.



**3** Sätt en ring runt de bokstäver som är symmetriska.



**4** Det vänstra pappret är vikt längs symmetrilinjen.  
Rita till höger hur hela figuren ser ut.

